


Wer lebt wo?













In meinem Gebäude leben 12 Kinder, und zwar 5 Mädchen und 7 Jungen. Sie alle schauen jetzt aus ihrem Fenster. Aber wer ist wer und wo lebt jeder von ihnen? Versuche das herauszufinden, indem du die Tabelle und das Bild vergleichst.

1. Martin lebt zwischen zwei Mädchen.
2. Marco lebt im Erdgeschoss und hat blonde Haare wie Anna.
3. Sonia lebt unter Leon und rechts von Marco.
4. Tina lebt unter einem Jungen und über Jana.
5. Frank lebt links von Dirk und über einem Mädchen.
6. Irma lebt über Albert.
7. Peter lebt auf der rechten Seite des Gebäudes.

	links	Mitte	rechts
3. Stock			
2. Stock			
1. Stock			
Erdgeschoss			



Wer lebt wo?

	links	Mitte	rechts
3. Stock	 Frank	 Dirk	 Anna
2. Stock	 Tina	 Martin	 Irma
1. Stock	 Jana	 Leon	 Albert
Erdgeschoss	 Marco	 Sonia	 Peter