





Robot ages

Vier Roboter stehen auf dem Markt zum Verkauf. Sie wurden alle in verschiedenen Jahren hergestellt. Wie alt sind sie?

1. Das Alter des vierarmigen Roboters ist eine ungerade Zahl.
2. Der Roboter mit zwei Beinen ist zwei Jahre jünger als der gelbe Roboter.
3. Der Roboter mit der Kopfantenne wurde vor fünf Jahren hergestellt.
4. Der gelbe Roboter hat 10 Finger und ist entweder 2 oder 4 Jahre alt.

				
2 Jahre				
3 Jahre				
4 Jahre				
5 Jahre				