


Mathe-Rätsel-Karten - Zahlenraum 20

Ich bin $> 2+3$.

Ich bin $< 10-1$.

Ich bin eine ungerade Zahl.

Welche Zahl bin ich?




kleineschule.com.de

Ich bin $< 16-2$.

Ich bin $> 5+5$.

Ich bin eine gerade Zahl.

Welche Zahl bin ich?



kleineschule.com.de

Ich bin $< 9+9$.

Ich bin $> 5+5$.

Die Summe all
meiner Ziffern ist 5.

Welche Zahl bin ich?



kleineschule.com.de

Ich bin $< 3+7$

Wenn man mich um 2 vergrößert,
so erhält man die Zahl > 10 .

Welche Zahl bin ich?



kleineschule.com.de

Ich bin $> 7+8$.

Ich bin $< 20-1$.

Ich bin eine ungerade Zahl.

Welche Zahl bin ich?




kleineschule.com.de

Ich bin $< 15-9$.

Ich bin nicht 4.

Ich bin eine gerade Zahl.

Welche Zahl bin ich?



kleineschule.com.de

Ich bin $> 8+3$.

Ich bin $< 17-3$.

Ich bin eine ungerade Zahl.

Welche Zahl bin ich?



kleineschule.com.de

Wenn man mich um 4 vergrößert,
so erhält man die Zahl < 10 .


Wenn man mich um 6 vergrößert,
so erhält man die Zahl > 10 .

Welche Zahl bin ich?




kleineschule.com.de

Mathe-Rätsel-Karten - Zahlenraum 20



Ich bin 12.

kleineschule.com.de



Ich bin 7.

kleineschule.com.de




Ich bin 9.

kleineschule.com.de



Ich bin 14.

kleineschule.com.de



Ich bin 2.

kleineschule.com.de




Ich bin 17.

kleineschule.com.de

Ich bin 5.



kleineschule.com.de



Ich bin 13.

kleineschule.com.de