

Mathe-Rätsel-Karten - Zahlenraum 1000

Ich habe 6 Zehner,
halb so viele Einer und
4 Hunderter.

Welche Zahl bin ich?



kleineschule.com.de

Ich habe 4 Hunderter,
doppelt so viele Zehner und
halb so viele Einer wie Zehner.

Welche Zahl bin ich?



kleineschule.com.de

Ich habe 3 Zehner,
doppelt so viele Einer
und 2 Hunderter.

Welche Zahl bin ich?



kleineschule.com.de

Ich liege zwischen 400 und 500.

Ich habe genau so viele Zehner
wie Hunderter und
halb so viele Einer wie Zehner.

Welche Zahl bin ich?



kleineschule.com.de

Ich bin gerade Zahl.
Ich liege zwischen 180 und 200.
Die Summe all meiner Ziffern
ist 16.

Welche Zahl bin ich?



kleineschule.com.de

Ich habe 3 aufeinanderfolgende
Ziffern.

Die Summe all meiner Ziffern
ist 21.


Welche Zahl bin ich?



kleineschule.com.de

Wenn man mich halbiert und
dann 20 addiert,
erhält man 110.


Welche Zahl bin ich?



kleineschule.com.de

Ich bin um 20 Zehner kleiner
als das Doppelte von 150.

Welche Zahl bin ich?



kleineschule.com.de

Mathe-Rätsel-Karten - Zahlenraum 1000

Ich bin 484.



kleineschule.com.de



Ich bin 463.

kleineschule.com.de



Ich bin 442.


kleineschule.com.de



Ich bin 236.

kleineschule.com.de

Ich bin 678.




kleineschule.com.de

Ich bin 196.




kleineschule.com.de

Ich bin 100.



kleineschule.com.de



Ich bin 180.

kleineschule.com.de