



Rechenrätsel für Kinder - Symbolrechnen

2. Klasse



Jedes abgebildete Symbol bedeutet eine bestimmte Zahl.
Versuche nun, die Berechnung sinnvoll zu lösen.

24	-		=	
----	---	---	---	---

	=	
---	---	--


	+	8	=	
---	---	---	---	---




	=	
---	---	--


	:	5	=	
---	---	---	---	---

	=	
---	---	--

	:		=	
---	---	---	---	---

	=	
---	---	--

	•		=	
---	---	---	---	---

	=	
---	---	--

Lösung

Jedes abgebildete Symbol bedeutet eine bestimmte Zahl (1-9).
Versuche nun, die Berechnung sinnvoll zu lösen.

$$\boxed{24} - \boxed{12} = \boxed{12}$$

$$\boxed{\img alt="yellow bird" data-bbox="722 348 791 385}} = \boxed{12}$$

$$\boxed{12} + \boxed{8} = \boxed{20}$$

$$\boxed{\img alt="red ladybug" data-bbox="722 458 778 505}} = \boxed{20}$$

$$\boxed{20} : \boxed{5} = \boxed{4}$$

$$\boxed{\img alt="yellow trumpet" data-bbox="722 578 778 625}} = \boxed{4}$$

$$\boxed{12} : \boxed{4} = \boxed{3}$$

$$\boxed{\img alt="green apple" data-bbox="728 700 785 738}} = \boxed{3}$$

$$\boxed{3} \cdot \boxed{3} = \boxed{9}$$

$$\boxed{\img alt="blue cup of coffee" data-bbox="728 808 792 862}} = \boxed{9}$$