

# Rechenrätsel für Kinder - Symbolrechnen




2. Klasse




Jedes abgebildete Symbol bedeutet eine bestimmte Zahl.  
Versuche nun, die Berechnung sinnvoll zu lösen.

12	-		=	6	:	2
----	---	---	---	---	---	---





	=
---	---


	+	11	=		+	
---	---	----	---	---	---	--





	=
---	---


	:	2	=	25	:	
---	---	---	---	----	---	--

	=
---	---

	•		=		+	
---	---	---	---	---	---	--

	=
---	---

	•		=		+	
---	---	---	---	---	---	--

	=
---	---

# Lösung

Jedes abgebildete Symbol bedeutet eine bestimmte Zahl (1-9).  
Versuche nun, die Berechnung sinnvoll zu lösen.

$$\boxed{12} \quad \boxed{-} \quad \boxed{9} \quad = \quad \boxed{6} \quad \boxed{:} \quad \boxed{2}$$

$$\boxed{\text{Blatt}} = 9$$

$$\boxed{9} \quad \boxed{+} \quad \boxed{11} \quad = \quad \boxed{10} \quad \boxed{+} \quad \boxed{10}$$

$$\boxed{\text{Planet}} = 10$$

$$\boxed{10} \quad \boxed{:} \quad \boxed{2} \quad = \quad \boxed{25} \quad \boxed{:} \quad \boxed{5}$$

$$\boxed{\text{Bleistift}} = 5$$

$$\boxed{5} \quad \boxed{\cdot} \quad \boxed{3} \quad = \quad \boxed{5} \quad \boxed{+} \quad \boxed{10}$$

$$\boxed{\text{Bär}} = 3$$

$$\boxed{9} \quad \boxed{\cdot} \quad \boxed{3} \quad = \quad \boxed{10} \quad \boxed{+} \quad \boxed{17}$$

$$\boxed{\text{Apfel}} = 17$$