










Rechenrätsel für Kinder – Symbolrechnen

3. Klasse





Jedes abgebildete Symbol bedeutet eine bestimmte Zahl (1-9).
Es sind bereits einige Ziffern vorgegeben.
Versuche nun, die Berechnung sinnvoll zu lösen.


	+		=	8
---	---	---	---	---

	3		7
-			
<hr/>			
			






	=	
--	---	--


	=	
---	---	--

	=	
---	---	--

	=	
---	---	--



	=	
---	---	--

			
+		3	5
<hr/>			
		5	

	=	
---	---	--

Lösung


Jedes abgebildete Symbol bedeutet eine bestimmte Zahl (1-9).
Es sind bereits einige Ziffern vorgegeben.
Versuche nun, die Berechnung sinnvoll zu lösen.


	+		=	8
---	---	---	---	---


	3	8	7
-	1	4	1
<hr/>			
	2	4	6

	1	2	4
+		3	5
<hr/>			
	1	5	9

	=	1
--	---	---

	=	8
---	---	---

	=	2
---	---	---

	=	4
---	---	---

	=	6
---	---	---

	=	9
---	---	---