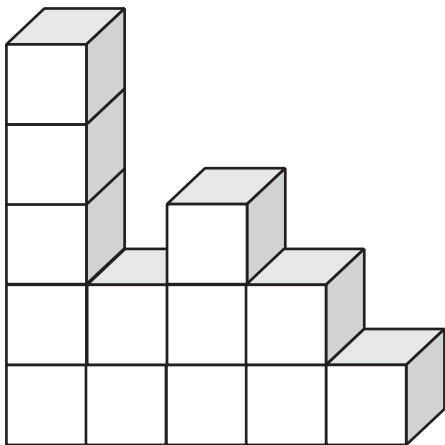
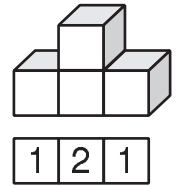


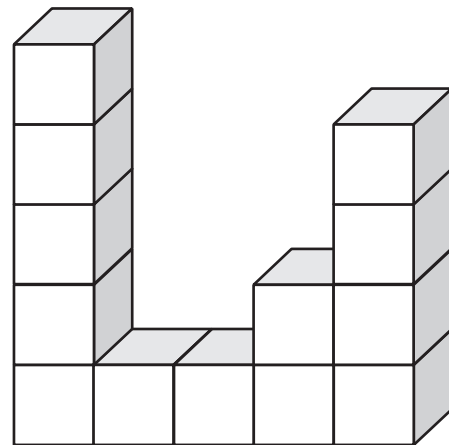
Mathe Online-Schule

Würfelgebäude und der richtige Bauplan

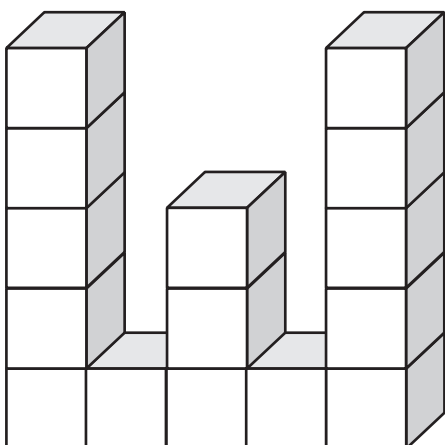
Wie viele Würfel gibt es in jeder Spalte?
Setze die Zahlen in die Kästchen darunter ein.



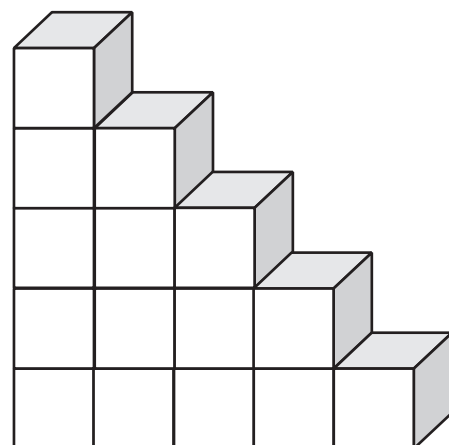
--	--	--	--	--



--	--	--	--	--



--	--	--	--	--



--	--	--	--	--

Mathe Online-Schule

Würfelgebäude und der richtige Bauplan

Wie viele Würfel gibt es in jeder Spalte?
Setze die Zahlen in die Kästchen darunter ein.

