

# Mathe Online-Schule

Welche Zahl steht für welches Bild?

Ersetze die Bilder durch Zahlen und finde die richtige Lösung.

Achte dabei auf die Punkt-vor-Strich-Regel!

$$6 \cdot 9 =$$



$$40 - 22 =$$



$$45 : 5 =$$



$$14 + 21 =$$



$$64 : 8 =$$





$$\begin{array}{c} \text{Bear} \\ \square \end{array} - \begin{array}{c} \text{Snail} \\ \square \end{array} : \begin{array}{c} \text{Jellyfish} \\ \square \end{array} - \begin{array}{c} \text{Duck} \\ \square \end{array} + \begin{array}{c} \text{Pig} \\ \square \end{array} = \square$$

# Mathe Online-Schule

## Lösung






$$64 \cdot 9 = 54$$


$$40 - 22 = 18$$


$$45 : 5 = 9$$


$$14 + 21 = 35$$


$$64 : 8 = 8$$



$$54 - 18 : 9 - 35 + 8 = 25$$

$$54 - 18 : 9 - 35 + 8 = 54 - 2 - 35 + 8 = 52 - 35 + 8 = 17 + 8 = 25$$