

Mathe Online-Schule

Welche Zahl steht für welches Bild?

Ersetze die Bilder durch Zahlen und finde die richtige Lösung.

Achte dabei auf die Punkt-vor-Strich-Regel!


$$72 - 65 =$$



$$36 : 6 =$$



$$2 \cdot 8 =$$








$$27 + 27 =$$



$$61 - 52 =$$





 \cdot 
 $-$ 
 $+$ 
 $:$ 
 $=$

Mathe Online-Schule

Lösung






$$72 - 65 = 7$$


$$36 : 6 = 6$$


$$2 \cdot 8 = 16$$


$$27 + 27 = 54$$


$$61 - 52 = 9$$



$$\boxed{7} \cdot \boxed{6} - \boxed{16} + \boxed{54} : \boxed{9} = \boxed{32}$$

$$7 \cdot 6 - 16 + 54 : 9 = 42 - 16 + 54 : 9 = 42 - 16 + 6 = 26 + 6 = 32$$