





## Wie lange dauert es?

Berechne die Ankunftszeit mit Hilfe der Startzeit und der Zeitdauer.

| Startzeit   | Zeitdauer       | Ankunftszeit  |
|---|-----------------|---|
|  | +<br>1 h 25 min |  |
| 9.45 Uhr  | +<br>3 h 15 min |   |
| 8.20 Uhr  | +<br>5 h 25 min |   |
| 16.50 Uhr   | +<br>1 h 25 min |   |
| 7.15 Uhr  | +<br>7 h 40 min |   |
| 20.35 Uhr   | +<br>2 h 55 min |   |

## Lösungen

| Startzeit   | Zeitdauer         | Ankunftszeit  |
|---|-------------------|---|
|  | $+$<br>1 h 25 min |  |
| 9.45 Uhr  | $+$<br>3 h 15 min | 13.00 Uhr   |
| 8.20 Uhr  | $+$<br>5 h 25 min | 13.45 Uhr   |
| 16.50 Uhr   | $+$<br>1 h 25 min | 18.15 Uhr   |
| 7.15 Uhr  | $+$<br>7 h 40 min | 14.55 Uhr   |
| 20.35 Uhr   | $+$<br>2 h 55 min | 23.30 Uhr   |