



Orientierung




Schau dir den Drachen genau an und finde heraus, was mit ihm auf den Bildern unten passiert ist. Wie wurde er gedreht?




Er ist nach rechts gedreht. 


Er ist nach links gedreht. 




Er ist nach rechts gedreht. 

Er ist nach links gedreht. 



Er ist nach rechts gedreht. 

Er ist nach links gedreht. 



Er ist nach rechts gedreht. 

Er ist nach links gedreht. 